

II. les ondes mécanique progressives périodiques

1. Définition.

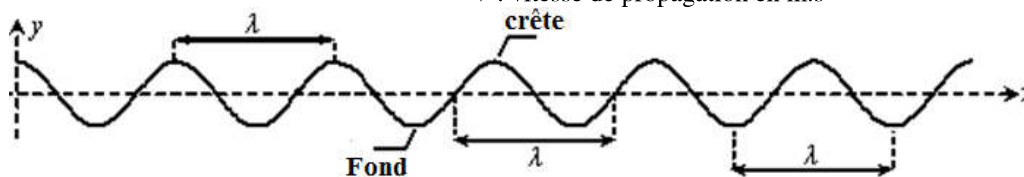
Une **onde progressive mécanique périodique** est le phénomène qui accompagne la propagation, dans un milieu matériel d'un signal (perturbation) se répétant identique à lui-même à intervalles de temps identiques appelés période T.

2. Double périodicité du phénomène.

λ : La longueur d'onde (**période spatiale**)
 : La distance parcourue pendant un intervalle de temps égal à la période T
 : La distance entre deux crêtes (sommets) consécutifs (ou entre deux fonds (creux) consécutifs)
 : La distance entre deux points qui vibrent de la même manière à un instant donné
 : La distance séparant deux perturbations consécutives

T : Période (**période temporelle**)
 : La durée nécessaire pour parcourir une distance égale à la longueur d'onde λ
 : La durée séparant l'arrivée de deux perturbations successives en un point

$$V = \frac{\lambda}{T} = \lambda \cdot N \quad \text{avec} \quad \begin{array}{l} \lambda : \text{Longueur d'onde en mètre (m)} \\ T : \text{Période en seconde (s)} \\ N : \text{Fréquence en Hertz (Hz)} \\ V : \text{vitesse de propagation en m.s}^{-1} \end{array}$$



**

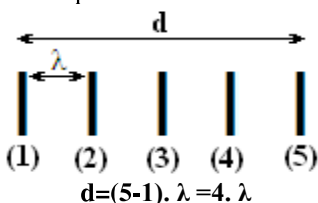
Comment déterminer la longueur d'onde λ ?????

Une phrase

Déterminant le nombre de répétition de la période spatiale (λ) ou la période temporelle (T)

Exemple :

d est la distance entre la première et la cinquième crête

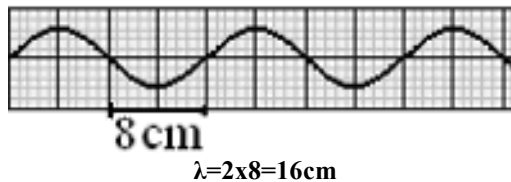


Avec une échelle

? cm/cm ou ?cm/div
 div est la division et représentée par un carré ou un rectangle

Exemple :

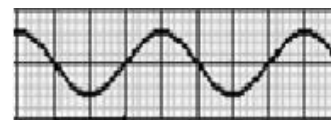
L'échelle $\frac{1}{8}$: chaque cm sur la figure représente 8cm dans le réel



Avec une règle

Echelle authentique (réelle)

Exemple :



**

Comment déterminer l'instant t_1 d'arrivée de l'onde à un point ?????

L'onde débute son mouvement de la source (S) et souvent à l'instant $t_0=0$, la figure représente l'aspect de la corde à l'instant t_1

1^{ère} méthode

Par la vitesse $V = \frac{d}{\Delta t}$
 $d = SM = 4 \times 4 = 16 \text{ cm}$
 D'où
 $\Delta t = \frac{d}{V} = t_1 - t_0 = t_1$



2^{em} méthode

On détermine le nombre multiple de la longueur d'onde λ dans la distance d

$$\frac{d}{\lambda} = 2 \quad \text{donc} \quad \frac{\Delta t}{T} = 2$$

alors $\Delta t = 2 \cdot T = t_1 - t_0 = t_1$

NB :

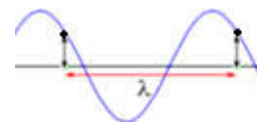
$V = \frac{d}{\Delta t} = \frac{\lambda}{T} \cdot d$ où $\frac{d}{\lambda} = \frac{\Delta t}{T} = C^{te} = k$ avec k le nombre de répétition de λ dans la distance d (ou le nombre de répétition de T dans la durée Δt)

**

Comment comparer le mouvement de deux points M1 et M2 ?????

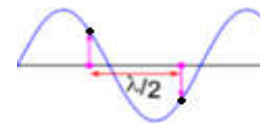
Deux points, M_1 et M_2 d'un milieu à une dimension (corde ressort, ...), vibrent en phase si

- Elles vibrent au même instant et de la même manière $Y(M_1) = Y(M_2)$
- Leur distance d est égale à un nombre entier de longueurs d'onde λ : $d = k \cdot \lambda$, ($k \in \mathbb{N}$)



Deux points, M_1 et M_2 d'un milieu à 1 dimension, vibrent en opposition de phase si

- Elles vibrent en opposition de phase $Y(M_1) = -Y(M_2)$
- Leur distance d est égale à un nombre entier impair de demi-longueurs d'onde λ : $d = (2k + 1) \cdot \frac{\lambda}{2}$



Comment Vibrent deux points ?????

$$\frac{M_1 M_2}{\lambda} = \frac{d}{\lambda} = \frac{SM_2 - SM_1}{\lambda} = k \text{ Ou bien } \frac{\Delta t}{T} = \Delta t \cdot N = k$$

Si k

$k = \dots,00$
Un nombre entier naturel
alors les points vibrent en phase

$K = \dots,50$
Un nombre décimal (... ,50 = ... virgule 50)
alors les points vibrent en opposition de phase

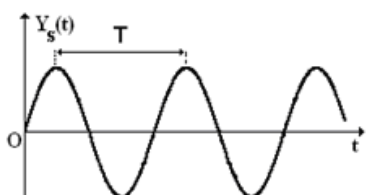
NB :

Pour comparer la source (S) avec un point M du milieu de propagation on calcul $\frac{SM}{\lambda}$

Equation horaire d'un point du milieu de propagation ?????

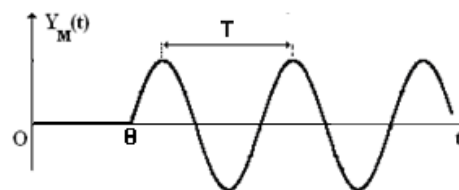
$$Y_M(t) = Y_S(t - \theta)$$

- On détermine la durée θ soit directement $\theta = \dots$ ou on calcule sa valeur $\theta = \frac{SM}{v}$
- La perturbation au point M reproduit la perturbation de la source (S) avec un retard θ , car la perturbation met un certain temps pour progresser de S à M



$Y_S(t)$: Elongation de la source (S)

Une translation de $Y_S(t)$ d'une durée θ et on obtient $Y_M(t)$



$Y_M(t)$: Elongation de la source (M)

III. Phénomène de diffraction

1. Phénomène de diffraction:

Une onde plane périodique rencontre un obstacle ou une ouverture ou une fente d'épaisseur a :

$a \gg \lambda$

Onde diaphragmée

Onde Incidente

$a \gg \lambda$

L'onde traverse la fente sans changer ni de forme ni de fréquence ni de vitesse et ni de longueur d'onde juste une partie est bloquée

$a \leq \lambda$: Phénomène de diffraction

$a < \lambda$: Phénomène de diffraction

- L'onde change de forme et devient circulaire
- La fente d'épaisseur a se comporte comme une source ponctuelle d'onde circulaire
- L'onde diffractée et l'onde incidente ont la même période, la même célérité et, par conséquent, la même longueur d'onde

Onde diaphragmée :

Onde mécanique progressive périodique se propageant sans modification à travers une ouverture.

Onde diffractée :


Onde mécanique progressive périodique se propageant avec étalement spatial à travers une ouverture

NB :

- $a \leq \lambda$: l'onde est limitée dans une portion angulaire circulaire d'angle θ (angle de diffraction) $\sin(\theta) \approx \theta = \frac{\lambda}{a}$
- Pour une longueur d'onde donnée, la diffraction est d'autant plus importante que la dimension l'ouverture a est faible

1. Milieu dispersif

Un milieu est **dispersif** si la vitesse (célérité) de l'onde dans le milieu dépend de la fréquence de la source

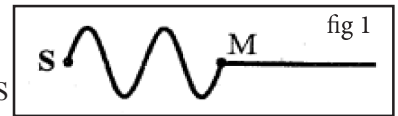


EXERCICE 1

Les vents créent dans les hautes mers des vagues qui se propagent vers les cotes .
Cet exercices a pour objectif l'étude le mouvement de ces vagues .

On considère que les vagues qui se propagent à la surface de la mer sont des ondes sinusoïdales de période $T = 7$ s .

- 1- L'onde étudiée est-elle transversale ou longitudinale ? justifier votre réponse .
- 2- Calculer la célérité de cette onde sachant que la distance entre deux crêtes successives est $d = 70$ m .
- 3- La figure 1 représente la coupe longitudinale de l'aspect de la surface de la mer à un instant t .
On néglige la dispersion , et considère S source de l'onde et M le front d'onde distant de S de la distance SM .

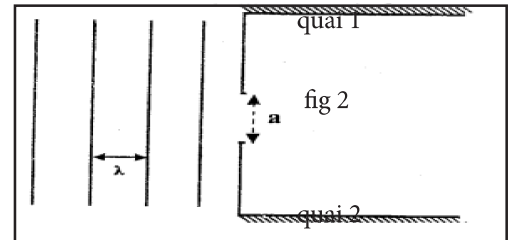


3-1- Écrire en se basant sur la figure 1 , l'expression du retard du point M par rapport à la source S en fonction de la longueur d'onde λ . Calculer la valeur τ .

3-2- Donner en justifiant le sens du mouvement de M au moment où l'onde l'atteint .

Les ondes arrivent sur une ouverture de largeur $a = 60$ m se trouvant entre deux quais d'un port (figure 2) .

Recopier la figure 2 , et représenter après leur passage à travers l'ouverture ;
et donner le nom du phénomène observé .



EXERCICE 2

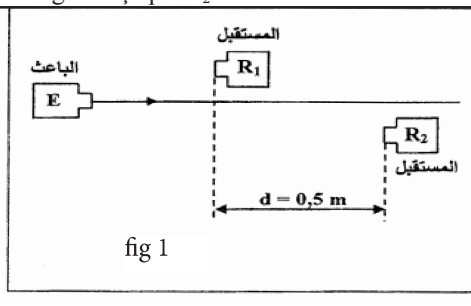
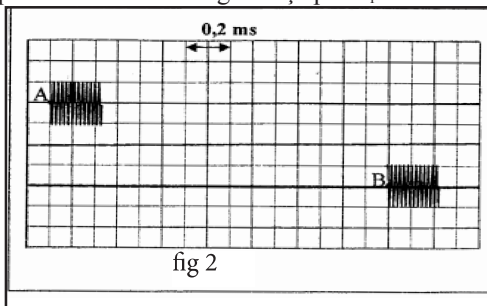
La prospection par échographie qui utilise les ondes ultra sonores est l'une des méthodes utilisées pour déterminer l'épaisseur des couches souterraines .

L'exercice a pour but de déterminer la célérité des ondes ultra sonores dans l'air et l'épaisseur d'une couche souterraine de pétrole .

1- Détermination de la célérité des ondes ultra sonores dans l'air :

On met sur une même ligne droite un émetteur d'ondes sonores E et deux récepteurs R_1 et R_2 séparés par la distance $d = 0,5$ m .

On visualise sur un oscilloscope à travers les entrée Y_1 et Y_2 les deux signaux reçus par R_1 et R_2 et on obtient l'oscillogramme représenté sur la figure 2 . A représente le début du signal reçu par R_1 et B le début du signal reçu par R_2 .



1-1- En se basant sur la figure 2 , déterminer le retard temporel τ entre les signaux reçu par R_1 et R_2 .

1-2- Déterminer V_{air} la célérité des ondes ultra sonores dans l'air .

1-3- Écrire l'expression de l'élongation y du point B à l'instant t en fonction de l'élongation du point A .

2- Détermination de l'épaisseur d'une couche souterraine de pétrole :

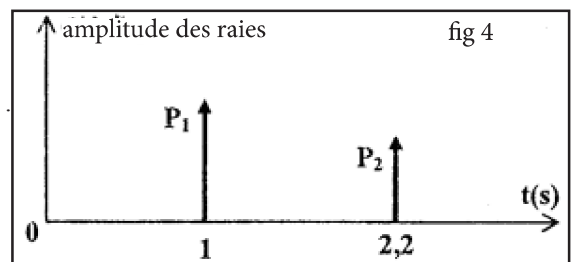
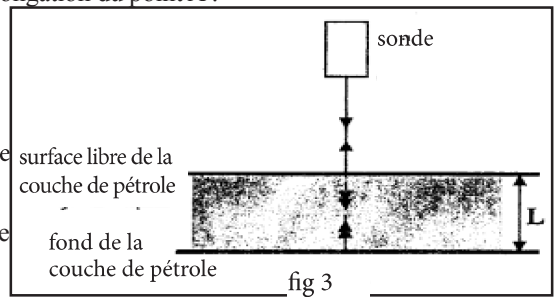
Pour déterminer l'épaisseur L d'une couche souterraine de pétrole , un des ingénieurs a utilisé une sonde de prospection par échographie .

La sonde émet à l'instant $t_0 = 0$ un signal ultra sonore de courte durée dans la direction perpendiculaire à la surface libre de la couche de pétrole . Une partie de ce signal est réfléchi par la surface libre , tandis que la deuxième partie se propage dans la couche pour subir une deuxième réflexion sur le fond de la couche et revenir vers la sonde en se transformant en un signal de courte durée aussi . (fig 3)

La sonde détecte à l'instant t_1 la raie P_1 qui correspond à l'onde réfléchi sur la surface de la couche de pétrole , et à l'instant t_2 la raie P_2 qui correspond à l'onde réfléchi sur le fond de la couche de pétrole .

La figure 4 représente le diagramme des deux raies correspondant aux deux ondes réfléchies .

Déterminer l'épaisseur L de la couche de pétrole sachant que la célérité des ondes ultra sonore dans le pétrole brute est $v = 1,3$ km.s⁻¹



EXERCICE 3

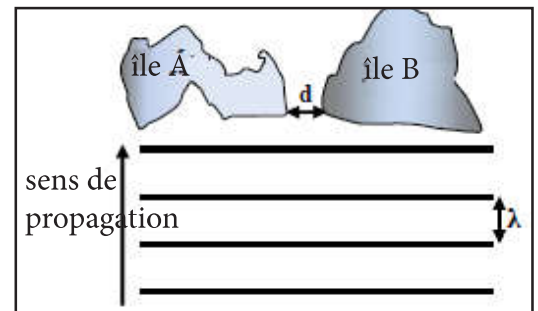
Les tremblements de terre dont l'épicentre se trouve dans la mer provoquent souvent le phénomène connu sous le nom de tsunami . Le tsunami est sous formes d'ondes mécaniques qui se propage à la surface des océans pour arriver aux cotes avec une grande énergie destructrice .

On modélise le tsunami par des ondes mécaniques progressives périodiques qui se propagent à la célérité v qui varie selon la profondeur h de l'océan suivant la relation $v = \sqrt{g \cdot h}$ dans le cas des faibles profondeur par rapport à la longueur d'onde λ ($\lambda \gg h$) , g l'intensité de la pesanteur .

Données: $g = 10 \text{ N.kg}^{-1}$.

On étudie la propagation de l'onde de tsunami dans une partie de l'océan de profondeur constante $h = 6000 \text{ m}$.

- 1- Expliquer que les ondes qui se propagent à la surface de l'océan.
- 2- Calculer la célérité des ondes dans cette partie de l'océan.
- 3- Sachant que la durée qui sépare le passage de deux crêtes consécutives en un point est $T = 18 \text{ min}$, calculer la longueur d'onde λ .
- 4- Dans le cas ($\lambda \gg h$), la fréquence des ondes du tsunami restent constantes pendant leur propagation vers les côtes, comment varie la célérité de ces ondes lorsqu'elles approchent des côtes. Justifier votre réponse.
- 5- Le tsunami passe près de deux îles A et B séparées par un détroit de largeur $d = 100 \text{ km}$. On suppose que la profondeur près des îles resta constante est que la longueur d'ondes des ondes du tsunami est $\lambda = 120 \text{ km}$.
- 5-1- Est ce que la diffraction des ondes se produit lorsqu'elles franchissent le détroit ? justifier votre réponse.
- 5-2- Dans le cas de l'affirmative :
 - a) Donner en justifiant votre réponse la longueur d'onde de l'onde diffracté.
 - b) Calculer l'écart angulaire θ .



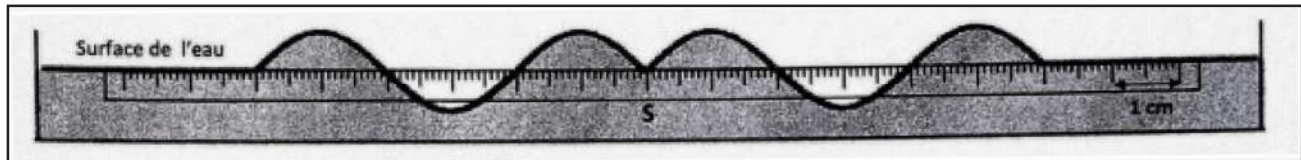
EXERCICE 4

Recopier le numéro de la question et écrire à côté, parmi les quatre réponses proposées, la réponse juste sans justification ni explication.

- Propagation d'une onde à la surface de l'eau :

On crée, à l'instant $t = 0$, en un point S de la surface de l'eau, une onde mécanique progressive sinusoïdale de fréquence $N = 50 \text{ Hz}$. La figure ci-dessous représente une coupe verticale de la surface de l'eau à un instant t .

La règle graduée sur le schéma indique l'échelle utilisée.



- 1- La longueur d'onde est : **(0,5pt)**
 - $\lambda = 0,2 \text{ cm}$
 - $\lambda = 4 \text{ cm}$
 - $\lambda = 5 \text{ cm}$
 - $\lambda = 6 \text{ cm}$
- 2- La vitesse de propagation de l'onde à la surface de l'eau est : **(0,5pt)**
 - $V = 2 \text{ m.s}^{-1}$
 - $V = 200 \text{ m.s}^{-1}$
 - $V = 3 \text{ m.s}^{-1}$
 - $V = 8.10^{-4} \text{ m.s}^{-1}$
- 3- L'instant t , où la coupe de la surface de l'eau est représentée, a pour valeur : **(0,75pt)**
 - $t = 8 \text{ s}$
 - $t = 0,03 \text{ s}$
 - $t = 0,3 \text{ s}$
 - $t = 3 \text{ s}$
- 4- On considère un point M de la surface de l'eau, éloigné de la source S d'une distance $SM = 6 \text{ cm}$. Le point M reprend le même mouvement que celui de S avec un retard temporel τ .
La relation entre l'élongation du point M et celle de la source s'écrit : **(0,75pt)**
 - $y_M(t) = y_S(t - 0,3)$
 - $y_M(t) = y_S(t + 0,03)$
 - $y_M(t) = y_S(t - 0,03)$
 - $y_M(t) = y_S(t + 0,3)$

EXERCICE 5

Le but de l'exercice est de reconnaître quelques propriétés des ondes ultrasonores et des ondes lumineuses à partir de leur propagation dans différents milieux.

1. propriétés des ondes ultrasonores et des ondes lumineuses

Recopier sur votre copie, le numéro de la question, et écrire la lettre correspondante à la seule proposition vraie parmi :

a	les ondes ultrasonores sont des ondes longitudinales.
b	Le domaine de fréquences de la lumière visible est limité entre 400 nm et 1000 nm.
c	les ondes ultrasonores et les ondes lumineuses ont même célérité de propagation dans le même milieu.
d	La fréquence des ondes lumineuses varie d'un milieu à un autre.

2. Propagation des ondes ultrasonores

On place en une même position, un émetteur E et un récepteur R des ondes ultrasonores, à la distance $d = 42,5 \text{ cm}$ d'un obstacle. Les ondes ultrasonores qui se propagent à partir de E, se réfléchissent sur l'obstacle puis sont reçues par R.

Un système d'acquisition informatique permet de visualiser l'onde émise (a) et l'onde reçue (b). La figure (1) donne l'oscillogramme obtenu.

2.1. Déterminer la valeur du retard temporel τ entre les ondes (a) et (b).

2.2. Vérifier que la valeur de la célérité de propagation dans l'air est $v_{\text{air}} = 340 \text{ m.s}^{-1}$.

2.3. On répète l'expérience en utilisant le même dispositif, et l'eau comme milieu de propagation. On obtient avec le même système d'acquisition informatique l'oscillogramme représenté sur la figure (2). Dans quel milieu (air/eau), la propagation des ondes ultrasonores est plus rapide ? Justifier votre réponse.

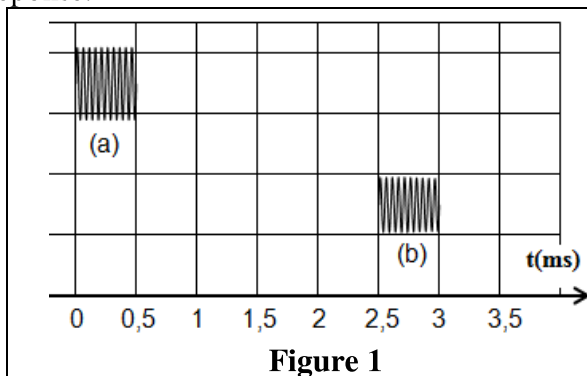


Figure 1

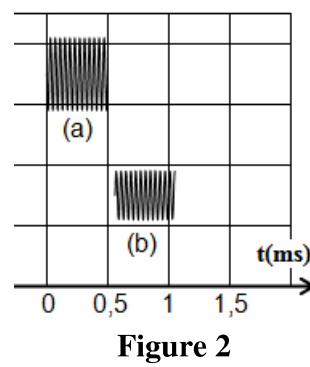


Figure 2

EXERCICE 6

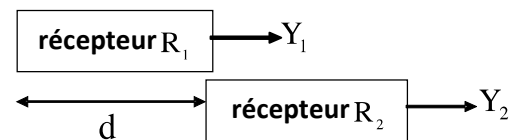
1-Détermination de la vitesse de propagation d'une onde ultrasonore dans l'air

On place un émetteur E d'ondes ultrasonores et deux récepteurs R_1 et R_2 comme l'indique la figure 1.

L'émetteur E envoie une onde ultrasonore progressive sinusoïdale qui se propage dans l'air. Celle-ci est captée par les deux récepteurs R_1 et R_2 .



Figure 1



On visualise, à l'oscilloscope,

sur la voie Y_1 le signal capté par R_1 et sur la voie Y_2 le signal capté par R_2 .

Lorsque les deux récepteurs R_1 et R_2 se trouvent à la même distance de l'émetteur E, les deux courbes correspondant aux signaux captés sont en phase (figure 2).

En éloignant R_2 de R_1 , on constate que les deux courbes ne restent plus en phase.

En continuant d'éloigner R_2 de R_1 , on constate que les deux courbes se retrouvent à nouveau en phase et pour la quatrième fois, lorsque la distance entre les deux récepteurs R_1 et R_2 est $d = 3,4 \text{ cm}$ (figure 1).

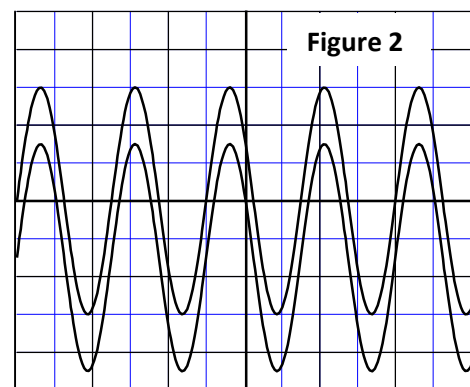


Figure 2

$$S_H = 10 \mu\text{s.div}^{-1}$$

1-1-Choisir la proposition juste, parmi les propositions suivantes :

a- Les ondes ultrasonores sont des ondes électromagnétiques.

b - Les ondes ultrasonores ne se propagent pas dans le vide .

c- Le phénomène de diffraction ne peut pas être obtenu par les ondes ultrasonores.

d- Les ondes ultrasonores se propagent dans l'air avec une vitesse égale à la célérité de la lumière.

1-2- Déterminer la fréquence N de l'onde ultrasonore étudiée.

1-3 -Vérifier que la vitesse de propagation de l'onde ultrasonore dans l'air est $V_a = 340 \text{ m.s}^{-1}$.

2-Détermination de la vitesse de propagation d'une onde ultrasonore dans l'eau de mer

L'émetteur envoie l'onde ultrasonore précédente dans deux tubes, l'un contenant de l'air l'autre étant rempli d'eau de mer (figure 3).

Le récepteur R_1 capte l'onde qui se propage dans l'air et le récepteur R_2 capte l'onde qui

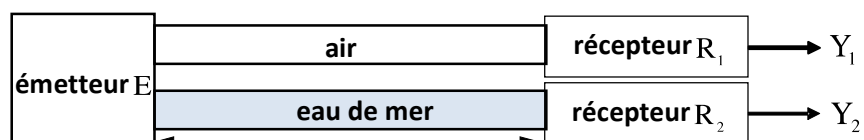


Figure 3

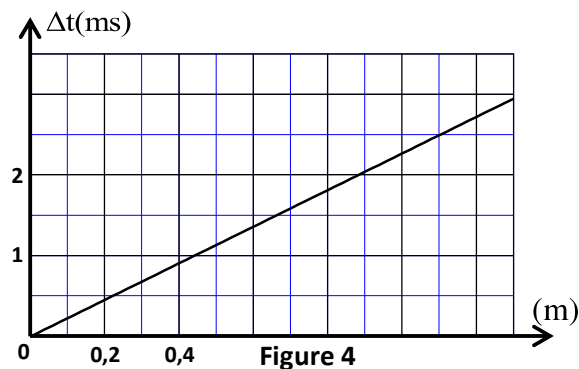
se propage dans l'eau de mer.

Soient Δt le retard temporel de réception de l'onde qui se propage dans l'air par rapport à celle qui se propage dans l'eau de mer et ℓ la distance entre l'émetteur et les deux récepteurs.

En mesurant le retard Δt pour différentes distances ℓ entre l'émetteur et les deux récepteurs (figure 3), on obtient la courbe de la figure 4.

2-1-Exprimer Δt en fonction de ℓ , V_a et V_e vitesse de propagation de l'onde dans l'eau de mer.

2-2 -Déterminer la valeur de V_e .



EXERCICE 7

1-Propagation d'une onde ultrasonore

une onde ultrasonore de fréquence $N=50\text{Hz}$ se propagent dans une eau calme avec une vitesse $v_0=1500\text{ms}^{-1}$.

1.1- Calculer la longueur d'onde λ de cette onde ultrasonore se propageant dans une eau calme.

1.2- La valeur de λ varie-t-elle si cette onde se propage dans l'air ? Justifier la réponse.

2- Mesure de la vitesse d'écoulement de l'eau dans une conduite

Une onde ultrasonore se propage à la vitesse v dans une eau qui coule à la vitesse v_e dans une conduite tel que $\vec{v} = \vec{v}_0 + \vec{v}_e$ avec \vec{v}_0 vecteur vitesse de propagation de cette onde dans une eau calme.

Pour déterminer la vitesse v_e d'écoulement de l'eau dans une conduite horizontale, on y place un émetteur E et un récepteur R d'ondes ultrasonores.

L'émetteur E et le récepteur R sont situés sur la même droite horizontale et parallèle à la direction du mouvement de l'eau et sont séparés d'une distance $d=1,0\text{m}$.

L'émetteur E émet une onde ultrasonore de faible durée qui est reçue par le récepteur R.

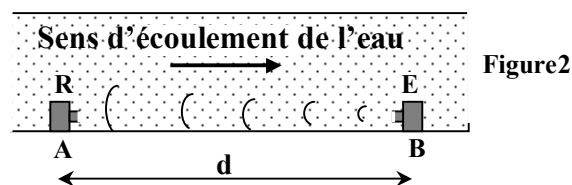
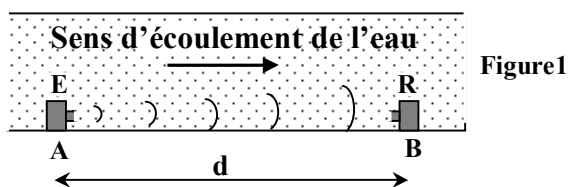
Un dispositif adéquat permet d'enregistrer le signal $u(t)$ reçu par le récepteur R.

On enregistre le signal $u(t)$ dans les deux cas suivants :

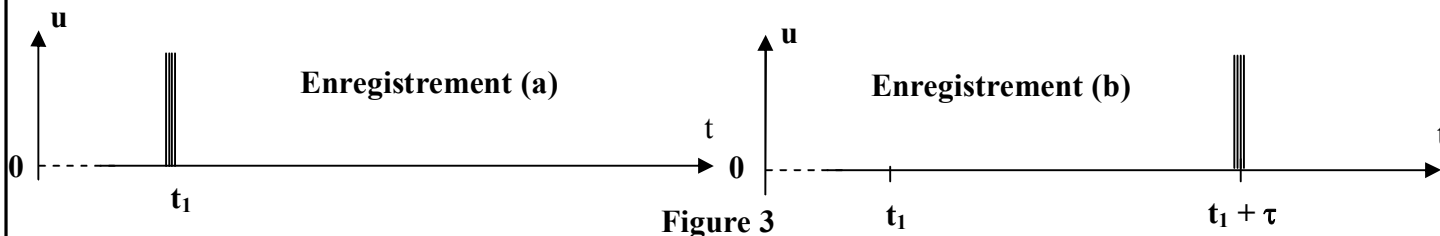
- 1^{er} cas : L'émetteur E est à la position A, et le récepteur R est à la position B (figure1).

- 2^{eme} cas : L'émetteur E est à la position B, et le récepteur R est à la position A (figure2).

On considère, pour chaque cas, l'instant de l'émission de l'onde ultrasonore par l'émetteur E comme origine des dates.



La figure 3 représente les deux enregistrements obtenus (a) et (b).



3. Propagation des ondes lumineuses

On éclaire une fente verticale de largeur $a=0,1\text{ mm}$, à l'aide d'un laser qui donne une lumière monochromatique de longueur d'onde $\lambda=632,8\text{ nm}$. On observe sur un écran placé à la distance D de la fente, des taches lumineuses mettant en évidence le phénomène de diffraction. La largeur de la tache centrale s'exprime par : $L = \frac{2\lambda.D}{a}$. La célérité de la lumière dans le vide (ou l'air) est $c=3.10^8\text{m.s}^{-1}$.

3.1. Déterminer la valeur de la fréquence ν de la lumière utilisée.

3.2. On refait l'expérience en utilisant un fil très fin vertical de diamètre a_0 , on obtient une tache centrale de largeur $L_0=2.L$. Déterminer la valeur de a_0 .